



























Woordenspel

Naam: _____

Hoeveel zijn de woorden waard?

| | | | | | | |
|---|---|---|---|--|--|--|
| a  | b  | c  | d  | e  | f  | g  |
| h  | i  | j  | k  | l  | m  | n  |
| o  | p  | q  | r  | s  | t  | u  |
| v  | w  | x  | y  | z  | | |

Bank 1,00 + 0,50 + 0,50 + 1,00 = € 3,00

Munt + + + = €

Euro + + + = €

Geld + + + = €

Kluis + + + + = €